

**Демонстрационный вариант
История (итоговая работа)
9 класс**

Продолжительность работы: 45 минут.

1

Прочитайте фрагмент сочинения российского историка.

«Согласно Указу в России должно было появиться особое привилегированное сословие, представители которого были бы освобождены от уплаты подушной подати. В него вошли в основном дети личных дворян и купцы первой гильдии».

Какое название имело данное сословие в начале XIX века?

- 1) однодворцы
- 2) вольные хлебопашцы
- 3) сельские обыватели
- 4) почётные граждане

2

Какие **три** явления характеризуют состояние экономики России в начале XIX века?

- 1) покупательная способность крестьян, составлявших 94% населения, была низкой
- 2) постоянно увеличивался натуральный оброк с крепостных крестьян в нечернозёмных губерниях
- 3) в чернозёмных губерниях широкое распространение получила шестидневная барщина и месячина
- 4) большинство помещичьих хозяйств перешло на товарное производство
- 5) постоянно возрастало количество закупаемых помещиками сельскохозяйственных машин

Воинскую доблесть русского народа характеризуют события Отечественной войны 1812 г.

Прочитайте текст.

От начала до конца своего пребывания в Москве, от Дорогомиловской заставы, где он ждал 14 сентября каких-то несуществующих «бояр» с ключами от Кремля, и до той минуты 19 октября, когда он воскликнул: «В Калугу! И горе тому, кто станет на моём пути!» – Наполеон переходил от нетерпеливого и тщетного ожидания ответа Александра на его мирные предложения к поискам выхода из катастрофического положения, в которое поставил его пожар Москвы. Этот пожар имел для агрессора и его армии роковые последствия не только в смысле уничтожения запасов, но и в моральном отношении. <...> Пожар Москвы, подмосковная партизанщина, абсолютное отсутствие даже со стороны кучки нищего люда, оставшегося в Москве, каких-либо признаков желания сблизиться с неприятелем – всё это ясно говорило завоевателю, что эта война становится для России войной народной в самом полном, в самом беспощадном значении этого слова.

Какие **три** высказывания об описываемых в тексте событиях верны?

- 1) Решение об оставлении Москвы без боя было принято командующим русской армией М.И. Кутузовым, чтобы сохранить армию для продолжения войны, пополнить её резервами.
- 2) Под Москвой против неприятеля действовали партизанские отряды Д. Давыдова, А. Бенкендорфа, крестьянина Г. Курина, вдовы сельского старосты В. Кожинной.
- 3) Во время пребывания Наполеона в Москве император Александр I присылал к нему послов с предложением мира.
- 4) Бесславное отступление французской армии от Москвы по Смоленской дороге обернулось её полным уничтожением.
- 5) Отступил Наполеон из Москвы по Калужской дороге, беспрепятственно обеспечивая свою армию провиантом и фуражом.

4 Установите соответствие между положениями и программными документами декабристского движения, к которым они относятся: для каждой позиции из первого столбца подберите позицию из второго столбца, обозначенную цифрой.

ПОЛОЖЕНИЯ

- А) формирование двухпалатного парламента с законодательными полномочиями
- Б) упразднение монархии и введение Временного революционного правления
- В) сохранение за помещиками принадлежащих им земель
- Г) упразднение сословий и введение единого гражданского состояния

ДОКУМЕНТЫ

- 1) «Конституция»
Н. Муравьёва
- 2) «Русская правда»
П. Пестеля

Запишите в таблицу выбранные цифры под соответствующими буквами.

	А	Б	В	Г
Ответ:	<input type="text"/>	<input type="text"/>	<input type="text"/>	<input type="text"/>

5 Какие **три** события (или явления) характеризуют правление императора Николая Павловича (1825 – 1855 гг.)?

- 1) введение новых бумажных денег – кредитных билетов
- 2) усиление позиций Третьего отделения императорской канцелярии в управлении государством
- 3) принятие первого либерального Университетского устава
- 4) проведение реформы государственной деревни под руководством П.Д. Киселёва
- 5) присоединение к России территорий Крыма и Северного Причерноморья

6 Кто из перечисленных деятелей является представителем либерального направления общественной мысли первой половины XIX в.?

- 1) Н.М. Муравьёв
- 2) С.С. Уваров
- 3) Г.В. Плеханов
- 4) М.А. Бакунин

7 Какой признак характеризует проведённую в 1830–1840-х гг. реформу государственной деревни под руководством П.Д. Киселёва?

- 1) численность государственных крестьян сокращалась за счёт передачи их в собственность помещикам
- 2) в государственной деревне вводился надзор со стороны помещиков за повседневной жизнью крестьян
- 3) для государственных крестьян вводилась новая обязанность – оказывать содействие помещикам в обработке их земель
- 4) государственные крестьяне должны были выделять часть земель для возделывания новой сельскохозяйственной культуры – картофеля

8 Прочитайте текст.

Русскую армию в походе на Балканы сопровождал известный художник-баталист _____, создавший ряд полотен, посвящённых обороне Шипкинского перевала, боям за Плевну, сражению при Шипке-Шейново. Запишите пропущенную в тексте фамилию художника.

Ответ: _____.

9

Заполните пустые ячейки таблицы «Реформы Александра II». Для этого используйте представленный ниже избыточный список: для каждой ячейки, обозначенной буквой, выберите номер нужного элемента.

Реформа	Предпосылки	Содержание
(А)	сохранение неэффективного сословного суда	(Б)
финансовая	(В)	учреждение ряда коммерческих банков, новая система налогообложения
земская	(Г)	формирование местных органов самоуправления, занимающихся социальными и экономическими вопросами
(Д)	(Е)	формирование армии на основе всеобщей воинской повинности

Элементы для выбора:

1. несостоятельность судов присяжных вследствие низкого уровня правовой культуры общества
2. судебная
3. большие расходы на проведение крестьянской реформы и на войну
4. обеспечение независимости судов от администрации
5. введение женского гимназического образования
6. низкий уровень вовлечённости населения в решение местных вопросов
7. военная
8. устаревшая система комплектования армии по рекрутским наборам

Запишите в таблицу выбранные цифры под соответствующими буквами.

	А	Б	В	Г	Д	Е
Ответ:	<input type="text"/>	<input type="text"/>	<input type="text"/>	<input type="text"/>	<input type="text"/>	<input type="text"/>

10

Какие из утверждений верны?

- А. Важное значение для развития экономики страны в пореформенный период имело строительство железных дорог.
- Б. После отмены крепостного права начал активно формироваться рынок труда в сельском хозяйстве, сотни тысяч крестьян пополнили армию батраков, нанимающихся на подённые работы в период страды.

- 1) только А 2) только Б 3) и А, и Б 4) ни А, ни Б

Установите соответствие между теоретическими положениями и общественными движениями: для каждой позиции из первого столбца подберите позицию из второго столбца, обозначенную цифрой.

ПОЛОЖЕНИЯ

- А) Необходимо расширять в обществе спектр прав и свобод, в том числе свободу слова и печати.
- Б) Власть самодержавия носит в России отеческий, патриархальный характер.
- В) Дворянство как высшее сословие, опора трона, должно сохранить свои привилегии.
- Г) Власти должны найти в себе мужество опереться на народные силы и инициативы.
- Д) Царская власть богоизбрана, обладает святостью.

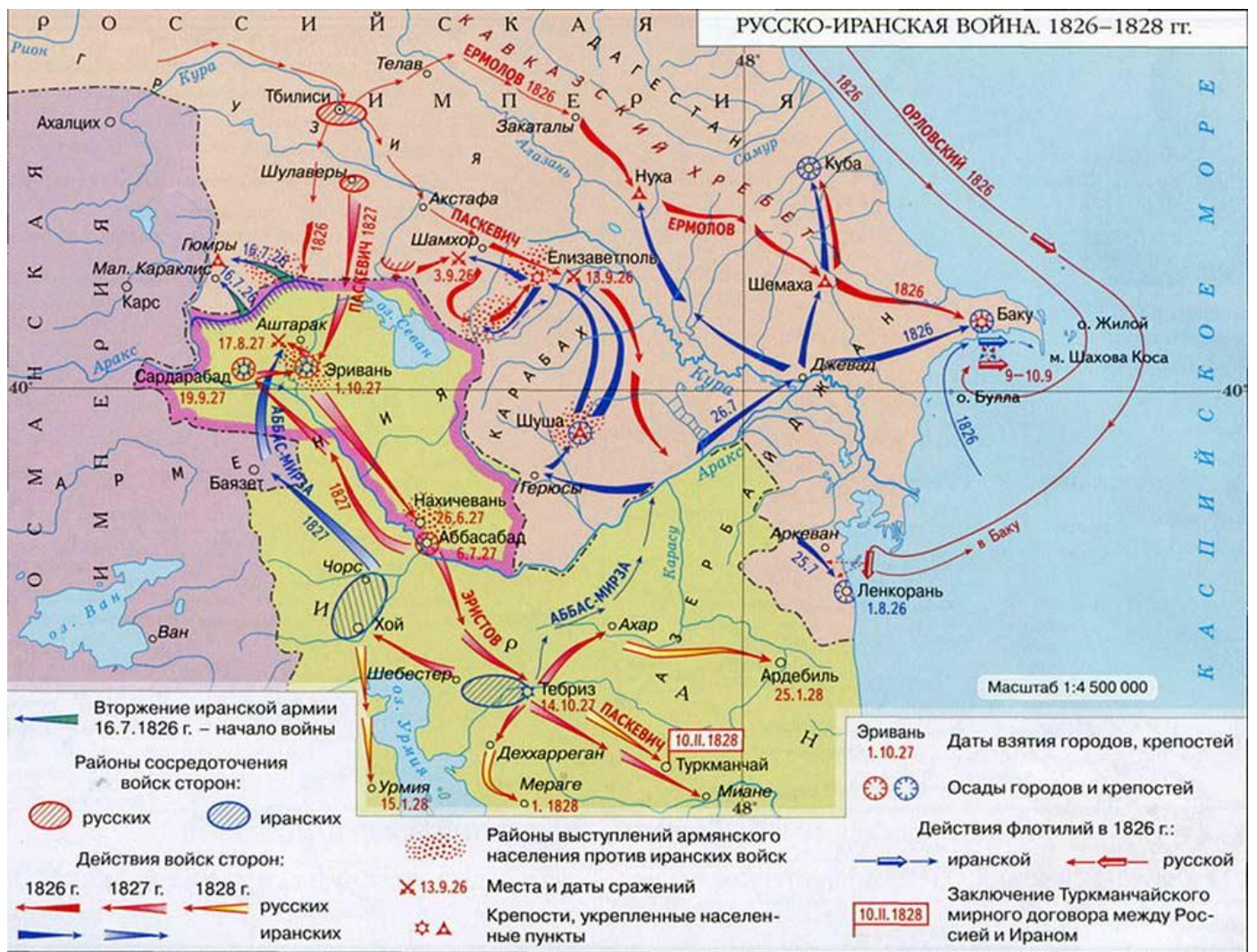
ОБЩЕСТВЕННЫЕ ДВИЖЕНИЯ

- 1) монархическое
2) либеральное

Запишите в таблицу выбранные цифры под соответствующими буквами.

	А	Б	В	Г	Д
Ответ:	<input type="text"/>	<input type="text"/>	<input type="text"/>	<input type="text"/>	<input type="text"/>

Рассмотрите карту-схему Русско-иранской войны 1826–1828 гг.



12

Какие **три** утверждения об отобразённых на карте-схеме исторических фактах и событиях верны?

- 1) В районе Шуши во время войны происходили выступления армянского населения против иранских войск.
- 2) Иранские войска под предводительством Аббас-Мирзы в 1826 г. овладели городами Тбилиси и Телав.
- 3) Мирный договор с Ираном был пописан в селении Туркманчай в 1828 г.
- 4) Морское сражение между русской и иранской военными флотилиями произошло в 1827 г. близ побережья Дагестана.
- 5) После сражения, происшедшего 13 сентября 1826 г. под Елизаветполем, армия под предводительством фельдмаршала И.Ф. Паскевича направилась к долине реки Аракс.

13 Во второй половине XIX в. территория Российской империи увеличилась за счёт присоединения

- 1) Финляндии
- 2) Восточной Грузии
- 3) Правобережной Украины
- 4) Средней Азии

14 Расположите в хронологической последовательности события, обозначенные буквами, которые отражают экономическое развитие России в 1850–1900-е гг.

- А.** отмена подушной подати с крестьян
- Б.** образование крупных промышленных объединений, синдикатов
- В.** учреждение Государственного банка Российской империи

Запишите в ответ буквы в нужной последовательности, не разделяя их запятыми.

Ответ: _____.

Рассмотрите две обозначенные буквами иллюстрации, на которых изображены портреты деятелей второй половины XIX – начала XX в.

А



П.А. Валуев

Б



П.А. Столыпин

Установите соответствие между человеком, изображённым на портрете, и краткой характеристикой его деятельности.

ХАРАКТЕРИСТИКИ

- 1) Министр внутренних дел, впоследствии председатель Совета министров, инициатор ряда реформ, в том числе аграрной, направленной на разрушение общины и создание широкого слоя мелких частных собственников.
- 2) Князь, получивший высший государственный пост канцлера; министр иностранных дел Российской империи, который добился отмены унизительных для страны пунктов Парижского мирного соглашения.
- 3) Министр внутренних дел, один из инициаторов проведения и разработчик земской реформы 1864 г.; получив в 1881 г. отставку, занялся литературным творчеством.

Запишите в таблицу выбранные цифры под соответствующими буквами.

	А	Б
Ответ:	<input type="text"/>	<input type="text"/>

16

Кто из российских мореплавателей в начале XIX в. совершил плавание в южные моря и открыл шестой материк – Антарктиду?

- 1) М.П. Лазарев и Ф.Ф. Беллинсгаузен
- 2) И.Ф. Крузенштерн и Ю.Ф. Лисянский
- 3) Е.А. и М.Е. Черепановы
- 4) О.Е. Коцебу и Ф.П. Врангель

17

Подвиги совершались русскими людьми и в трагических сражениях, в которых не была добыта победа.

Рассмотрите изображение медали, которой награждали за участие в бою с японцами русских воинов с крейсера «Варяг» и канонерской лодки «Кореец».



Какие **три** высказывания о бое верны?

- 1) В ходе сражения оба корабля были уничтожены огнём эскадры противника.
- 2) Бой произошёл 27 января в первый день русско-японской войны.
- 3) Русские моряки не смогли прорваться через японскую эскадру и затопили корабль на рейде бухты Чемульпо.
- 4) Крейсер «Варяг» был самым современным кораблём Тихоокеанского флота России, таким же как крейсер «Новик».
- 5) Все участники морского боя при Чемульпо погибли.

18

Что из перечисленного относится к главным общественно-политическим завоеваниям революции 1905–1907 гг.?


- 1) создание законодательной Государственной думы
- 2) отделение церкви от государства, школы от церкви
- 3) падение самодержавия и установление двоевластия
- 4) отмена всех сословных, национальных и религиозных ограничений

Рассмотрите две иллюстрации, обозначенные буквами.

А



Б



Установите соответствие между памятником культуры, созданным в первой половине XIX в., и архитектором, по проекту которого он был построен.

- 1) О. Бове
- 2) О. Монферран
- 3) К. Росси


Запишите в таблицу выбранные цифры под соответствующими буквами.

	А	Б
Ответ:	<input type="text"/>	<input type="text"/>

Большой вклад в развитие города Москвы вносили купцы и предприниматели, выступавшие в роли меценатов.


Рассмотрите два портрета московских меценатов, обозначенные буквами.

А



С.И. Щукин (1854–1936 гг.)

Б



П.М. Третьяков (1832–1898 гг.)

Установите соответствие между человеком, изображённым на портрете, и его краткой характеристикой.

- 1) Был сыном владельца бумагопрядильных фабрик, продолжал семейное дело; считая благотворительность обязательной, оказывал финансовую помощь нуждающимся; создал полноценное собрание русской живописи с целью сделать его общественным достоянием, построил здание для картинной галереи и передал его в дар городу.
- 2) Родился в семье московского фабриканта-старообрядца, коллекционировал полотна французских художников-импрессионистов и постимпрессионистов, открыл свой особняк для всех желающих ознакомиться с лучшими образцами французского искусства; в 1918 г. галерея была национализирована.
- 3) Родился в московской купеческой семье, в течение многих лет собирал коллекцию предметов театральной старины, был дружен с известными московскими актёрами, создал первый частный литературно-театральный музей, который носит его имя.

Запишите в таблицу выбранные цифры под соответствующими буквами.

	А	Б
Ответ:	<input type="text"/>	<input type="text"/>

Ответы на задания

№ задания	Балл	Ответ
1	1	4
2	2	135
3	2	124
4	2	1212
5	2	124
6	1	1
7	1	4
8	1	Верещагин
9	2	243678
10	1	3
11	2	21121
12	2	135
13	1	4
14	1	ВАБ
15	2	31
16	1	1
17	2	234
18	1	1
19	2	12
20	2	21